

Séance 1



Objectifs : Découvrir et comprendre la construction du nombre 100

Calcul mental : Ajouter 10 à des dizaines entières

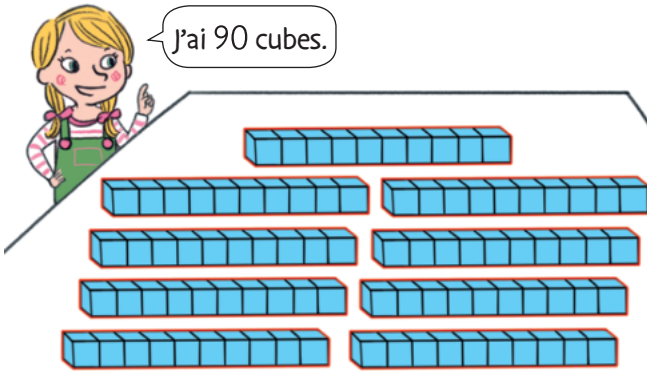
Manipulation : Guide, leçon 62

Mon mémo : page 10

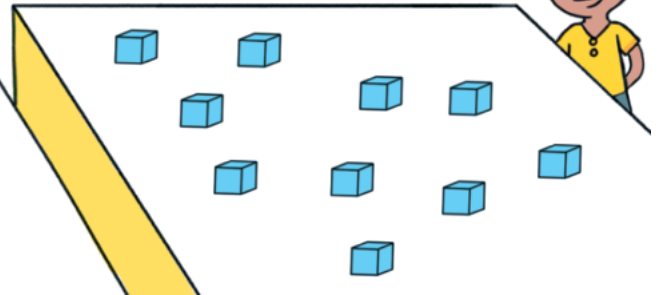
Fiche différenciation : Exercice 3 versions * et ***

CHERCHONS

1 Complète la bulle de Nabil.



Si j'ajoute mes 10 cubes, il y aura dizaines de cubes en tout.



- Comment s'écrit ce nouveau nombre ?

En chiffres :

En lettres :

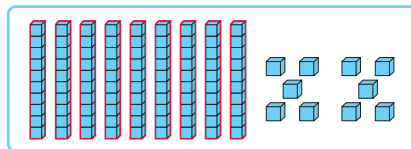
* 2 Complète. Entoure les étiquettes qui font 100.



.....

$90 + 1$

.....



.....

..... d u = d =

* 3 Entoure les étiquettes qui font 100.

cent

$10 + 10 + 10 + 10 + 10 + 10 + 10 + 10 + 10 + 10$



10 d

